

अभ्यास प्रश्न पत्र – 2 (2020-2021)

CLASS XII

Geography (Theory)

Allotted Time- 3 Hours

Total Marks – 70

सामान्य निर्देश:-

- 1- यह प्रश्न पत्र 3 खंडों में विभाजित है खंड क, ख, और ग।
- 2- इस प्रश्न पत्र में कुल 29 प्रश्न हैं। सभी अनिवार्य हैं।
- 3- खंड क में प्रश्न संख्या 1 से 15 तक बहुविकल्पीय प्रश्न हैं। प्रत्येक प्रश्न 1 अंक का है। इस खंड से केवल कोई 14 प्रश्न करने हैं। उत्तर पुस्तिका में केवल सही उत्तर लिखना है।
- 4- खंड ख में प्रश्न संख्या 16 और 17 हैं। ये स्रोत, चित्र और ग्राफ आधारित प्रश्न हैं। प्रत्येक प्रश्न 3 अंक का है। प्रश्न लघु और बहुविकल्पीय हैं। प्रत्येक प्रश्न के नीचे 4 उप प्रश्नों में से किन्हीं 3 प्रश्नों के उत्तर देने हैं।
- 5- खंड ग में प्रश्न संख्या 18 से 22 तक लघु उत्तरीय प्रश्न हैं। प्रत्येक प्रश्न 3 अंक का है। प्रत्येक प्रश्न का उत्तर अधिकतम 80 से 100 शब्दों में लिखिए।
- 6- खंड ग में प्रश्न संख्या 23 से 27 तक दीर्घ उत्तरीय प्रश्न हैं। प्रत्येक प्रश्न 5 अंक का है। प्रत्येक प्रश्न का उत्तर अधिकतम 150 शब्दों में लिखिए।
- 7- प्रश्न संख्या 28 और 29 मानचित्र से संबंधित हैं। जो कि क्रमशः भौगोलिक विशेषताओं की पहचान करने और स्थान निर्धारण करके नाम लिखने से संबंधित हैं। प्रत्येक प्रश्न 5 अंक का है।
- 8- दिए गए मानचित्रों को भरकर उत्तर पुस्तिका में नली कीजिए।
- 9- रूप रेखा मानचित्रों को खींचने के लिये टेम्पलेट और स्टेसिलो के प्रयोग की अनुमति है।

SECTION A		
1.	रिक्त स्थानों की पूर्ति कीजिए।  भारत में----- और -----के साथ जलवायु प्रमुख रूप से जनसंख्या वितरण के प्रतिरूप को निर्धारित करती हैं।	1
2.	निम्न में कौन सा कथन मानव का प्राकृतिकरण/ निश्चयवाद से सम्बंधित नहीं है ? (A) मानव प्रकृति की सुनता था। (B) मानव के सामाजिक विकास की अवस्था आदिम थी।	1

	<p>(C) मानवीय क्रियाएँ आभाव से स्वतंत्रता की ओर अग्रसर थी। (D) तकनीकी ज्ञान का स्तर निम्न था।</p>	
3.	<p>भारत में हैदराबाद, जयपुर, लखनऊ, आगरा निम्न में किस वर्ग के प्रमुख नगरों के उदाहरण हैं ? (A) मध्यकालीन नगर (B) प्राचीन नगर (C) आधुनिक नगर (D) स्वतंत्रता के बाद बसे नगर</p>	1
4.	<p>मूल्यांकित कीजिए कि निम्न में कौन सी विकासशील देशों की नगरीय बस्ती की प्रमुख समस्या है। (A) नगरीय बस्तियों में पर्याप्त सुख सुविधाओं की व्यवस्था है। (B) नगरीय बस्तियों में जनसंख्या का एक बड़ा भाग अनाधिकृत और गंदी बस्तियों में रहता है। (C) बस्तियों में सामाजिक अव संरचना का स्तर उच्च पाया जाता है। (D) बस्तियों में रोजगार के पर्याप्त अवसर उपलब्ध हैं।</p>	1
5.	<p>भारत के किस राज्य में नीरू-मीरू (जल और आप) नाम का जल संरक्षण कार्यक्रम चलाया गया है। (A) राजस्थान (B) तमिलनाडु (C) आंध्रप्रदेश (D) हिमाचल प्रदेश</p>	1
6.	<p>विश्लेषण कीजिए कि निम्न में राज्यों का कौन सा समूह जनसंख्या की निम्न वृद्धि का प्रतिनिधित्व करता है। (A) केरल, कर्नाटक, तमिलनाडु, आंध्रप्रदेश, गोआ (B) गुजरात, महाराष्ट्र, राजस्थान, पंजाब, हरियाणा (C) बिहार, छत्तीसगढ़, झारखंड उत्तर प्रदेश, मध्यप्रदेश, सिक्किम (D) उत्तराखंड, असम, मेघालय, उड़ीसा, हिमाचल</p>	1
7.	<p>मानव विकास के निम्न उपागमों में से किस उपागम को अंतर्राष्ट्रीय श्रम संगठन द्वारा प्रस्तावित किया गया है। (A) क्षमता उपागम (B) आधारभूत आवश्यकता उपागम (C) कल्याण उपागम (D) आय उपागम</p>	1
8.	<p>निम्न में कौन सी मानव गरीबी सूचकांक की विशेषता नहीं है। (A) यह सूचकांक मानव विकास में कमी को मापता है। (B) यह एक बिना आय वाला सूचकांक है। (C) प्रौढ़ साक्षरता दर इसका एक सूचक है।</p>	1

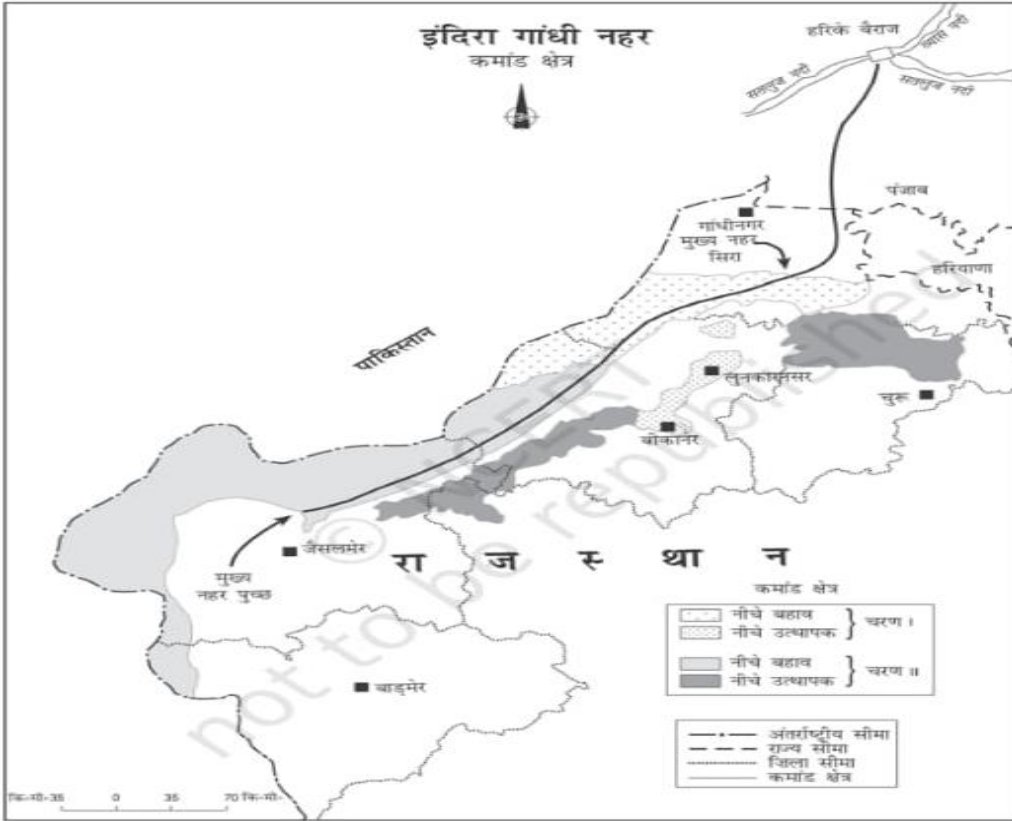
	(D) यह सूचकांक अपेक्षाकृत अधिक कमी उद्घटित करता है।	
9.	निम्न में कौन सी कृषि खट्टे फलों की आपूर्ति के लिए विशेष रूप से जानी जाती है। (A) डेरी कृषि (B) सहकारी कृषि (C) कारखाना कृषि (D) भूमध्य सागरीय कृषि	1
10.	2011 की जनगणना के अनुसार भारत के किस राज्य की महिला साक्षरता दर सबसे कम है। (A) राजस्थान (B) हिमाचल प्रदेश (C) बिहार (D) छत्तीसगढ़	1
11.	कालम (अ) की मदों का कालम (ब) की मदों से उचित मिलान कीजिए और नीचे दिए गए विकल्पों में से सही विकल्प का चयन कीजिए। <b>कालम (अ)</b> <b>कालम (ब)</b> I कलपक्कम (तमिलनाडु) 1 पेट्रोलियम II ओखला (दिल्ली) 2 नाभिकीय ऊर्जा III मनीकरण (हिमाचल प्रदेश) IV नहर कटिया (असम) 3 जैव ऊर्जा 4 भूतापीय ऊर्जा  विकल्प I II III IV (A) 2 3 4 1 (B) 2 4 3 1 (C) 4 3 1 2 (D) 3 2 4 1	1
12.	प्रायः पंचम क्रियाकलापों में लगे लोग निम्न में किस नाम से जाने जाते हैं। (A) लाल कालर (B) स्वर्ण कालर (C) नीला कालर (D) धूसर कालर	1
13.	जापान के कोबे ओसाका प्रदेश में जनसंख्या के सघन बसाव के लिए उत्तरदायी कारण की पहचान कीजिए और सही विकल्प का चयन कीजिए।	1

	(A) खनिजों की उपलब्धता (B) नगरीकरण (C) औद्योगिककरण (D) उपजाऊ मृदा	
--	--	--

14.	जनसंख्या पिरामिड में पिरामिड का दायीं भाग किस वर्ग की आयु को प्रदर्शित करता है ? (A) स्त्रियों की (B) पुरुषों की (C) वृद्धों की (D) बच्चों की	1
-----	---	---

15.	रिक्त स्थान की पूर्ति कीजिए भारत की जनगणना में प्रवास की गणना दो आधारों-----और----- पर की जाती है।	1
-----	---	---

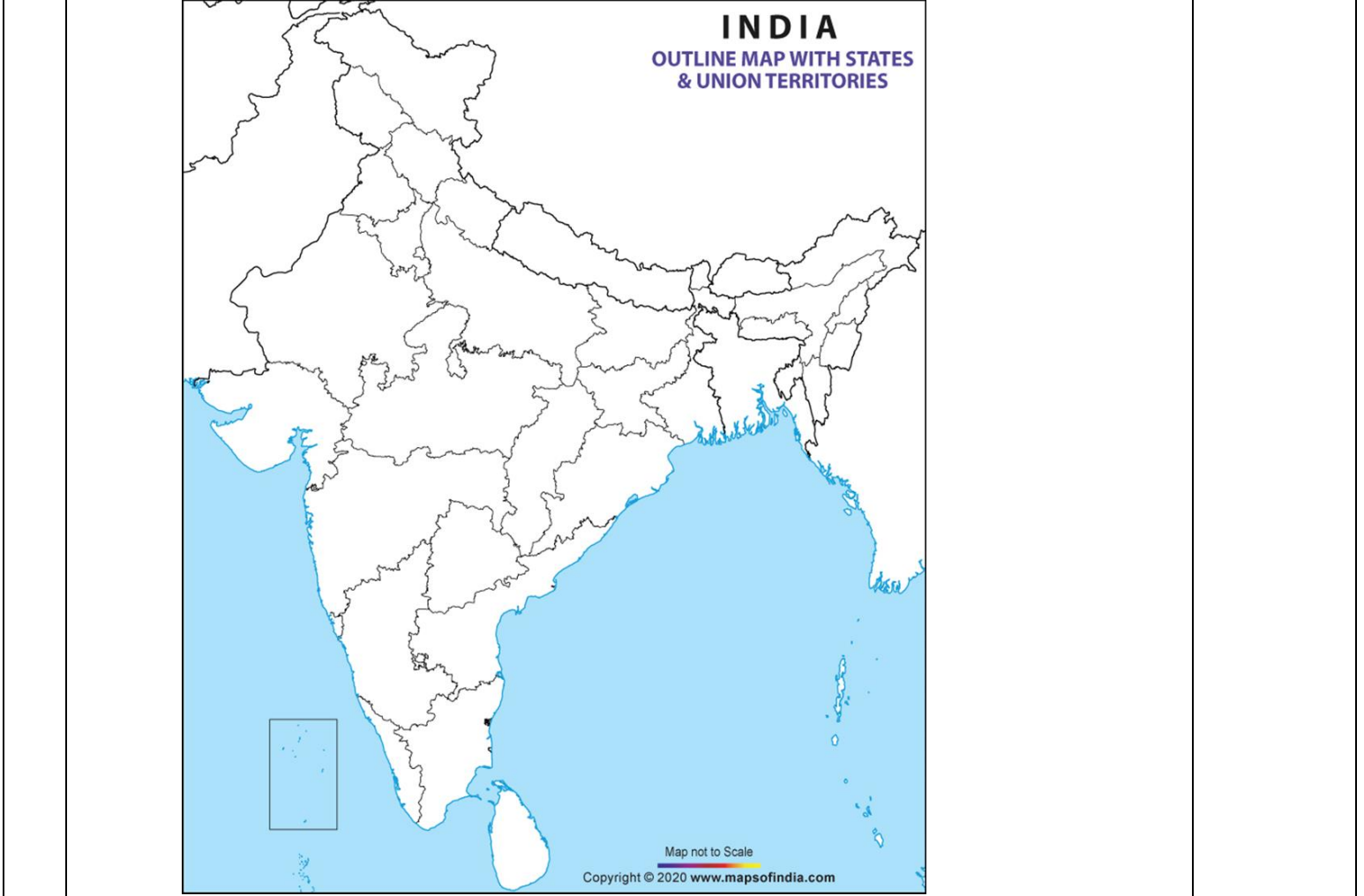
निम्नलिखित चित्र का ध्यानपूर्वक अध्ययन कीजिये तथा नीचे दिए हुए प्रश्नों का उत्तर दीजिये।



- (1) इंदिरा गांधी नहर को पहले किस नाम से जाना जाता था।  
 (A) राजपूताना नहर  
 (ब) कवर सेन नहर  
 (स) राजस्थान नहर

	<p>(द) अपर गंगा नहर</p> <p>(II) इंदिरा गांधी नहर कमान क्षेत्र में कौन सा जिला शामिल नहीं है।</p> <p>(A) हनुमानगढ़</p> <p>(ब) बीकानेर</p> <p>(स) अलवर</p> <p>(ड) नागौर</p> <p>(III) विश्लेषण कीजिए कि इंदिरा गांधी नहर कमान क्षेत्र में निम्न में कौन सा नकारात्मक प्रभाव पड़ा है।</p> <p>(A) यहाँ की भूमि हरी-भरी हो गई है।</p> <p>(B) मृदा में लवणता की मात्रा बढ़ गई है।</p> <p>(C) फसलों की सघनता में वृद्धि हो गई है।</p> <p>(D) कृषि और पशुधन उत्पादकता में वृद्धि होगई है।</p> <p>(IV) बहुत से विद्वानों ने इंदिरा गांधी नहर परियोजना की पारिस्थितिकीय पोषणता पर प्रश्न उठाए हैं इस का प्रमुख कारण क्या था उचित विकल्प का चयन कीजिए</p> <p>(A) इस कमान क्षेत्र का विस्तार कई राज्यों पर है।</p> <p>(B) इस नहर ने यहाँ की भूमि को हरा-भरा बना दिया।</p> <p>(C) यहाँ परंपरागत फसलों के स्वरूप में परिवर्तन हो गया।</p> <p>(D) यहाँ सतत पोषणीयता की अवधारणा साकार नहीं हो सकी और भौतिक पर्यावरण का निम्नीकरण हुआ।</p>	
	<b>SECTION-C</b>	
18	<p>विश्व के बहुत अधिक स्थानों पर बहुत कम लोग और कम स्थानों पर बहुत अधिक लोग रहते हैं तीन तर्क देकर कथन को न्याय संगत ठहराइए।</p> <p style="text-align: center;">अथवा</p> <p>विश्व में जनसंख्या का वितरण भौतिक कारकों के साथ साथ आर्थिक कारकों से भी प्रभावित हुआ है तीन आर्थिक कारणों के उदाहरण देकर कथन को न्याय संगत ठहराइए।</p>	1+1+1=3
19	भारत में गुच्छित और परिक्षिप्त बस्तियों में किन्हीं तीन आधारों पर अंतर स्पष्ट कीजिए।	1+1+1=3
20	<p>संसाधनों तक पहुंच, स्वास्थ्य एवं शिक्षा मानव विकास के केंद्र बिंदु है। कथन को प्रमाणित कीजिए।</p> <p style="text-align: center;">अथवा</p> <p>मानव विकास को मापने की विधियाँ निरंतर परिष्कृत हो रही हैं। तर्क देकर प्रमाणित कीजिए।</p>	3
21	भारत में जल की घटती उपलब्धता और बढ़ती मांग के कारण जल संसाधनों के संरक्षण और प्रबंधन की आवश्यकता बढ़ गई है। कथन की व्याख्या कीजिए।	3
22	अधिक विकसित देशों में तृतीय क्रियाकलापों में कर्मियों का अधिकतर प्रतिशत लगा है। जबकि अल्प विकसित देशों में बहुत कम लोग इस सेवा क्षेत्र में लगे हैं। इस अन्तर के लिए उत्तरदायी किन्हीं तीन कारणों की खोज कीजिए।	3

23	प्रवास के परिणामों को आर्थिक, सामाजिक, सांस्कृतिक, राजनैतिक व जनाकीकिय संदर्भों में देखा जाता है कथन की परख कीजिए।	5
24	भारत में भू- निम्नीकरण के लिए उत्तरदायी किन्ही पांच कारको की व्याख्या कीजिए। अथवा भारत के कई शहरों में वायु प्रदूषण खतरनाक हो गया है। पांच उदाहरण देकर वायु प्रदूषण के कारणों की व्याख्या कीजिए।	5
25	चलवासी पशुचारण क्या है। इसकी किन्ही चार विशेषताओं को स्पष्ट कीजिए। अथवा निर्वाह कृषि किसे कहते है। आदिकालीन निर्वाह कृषि की किन्ही चार विशेषताओं को स्पष्ट कीजिए।	1+4=5
26	विश्व में ग्रामीण बस्तियों की स्थिति को प्रभावित करने वाले किन्ही पांच कारको का विश्लेषण कीजिए।	5
27	हाल के वर्षों में नाभिकीय ऊर्जा एक व्यवहार्य स्रोत के रूप में उभरा है। कथन को न्याय संगत ठहराइए।	5
28	भारत के दिए गये रेखा राजनैतिक मानचित्र में किन्ही पांच को उचित चिन्हों से दर्शाइए और उनके सम्मुख नाम लिखिए। (I) भारत का सबसे कम नगरीकृत राज्य (II) भारत का सबसे अधिक जनसंख्या घनत्व वाला राज्य (2011) (III) रत्नागिरी लौह अयस्क क्षेत्र (IV) चाय के उत्पादन में अग्रणी राज्य (V) चैन्नई महानगर (VI) सिहँभूमि तांबा क्षेत्र (VII) उत्तर प्रदेश की तेल शोधनशाला	1x5

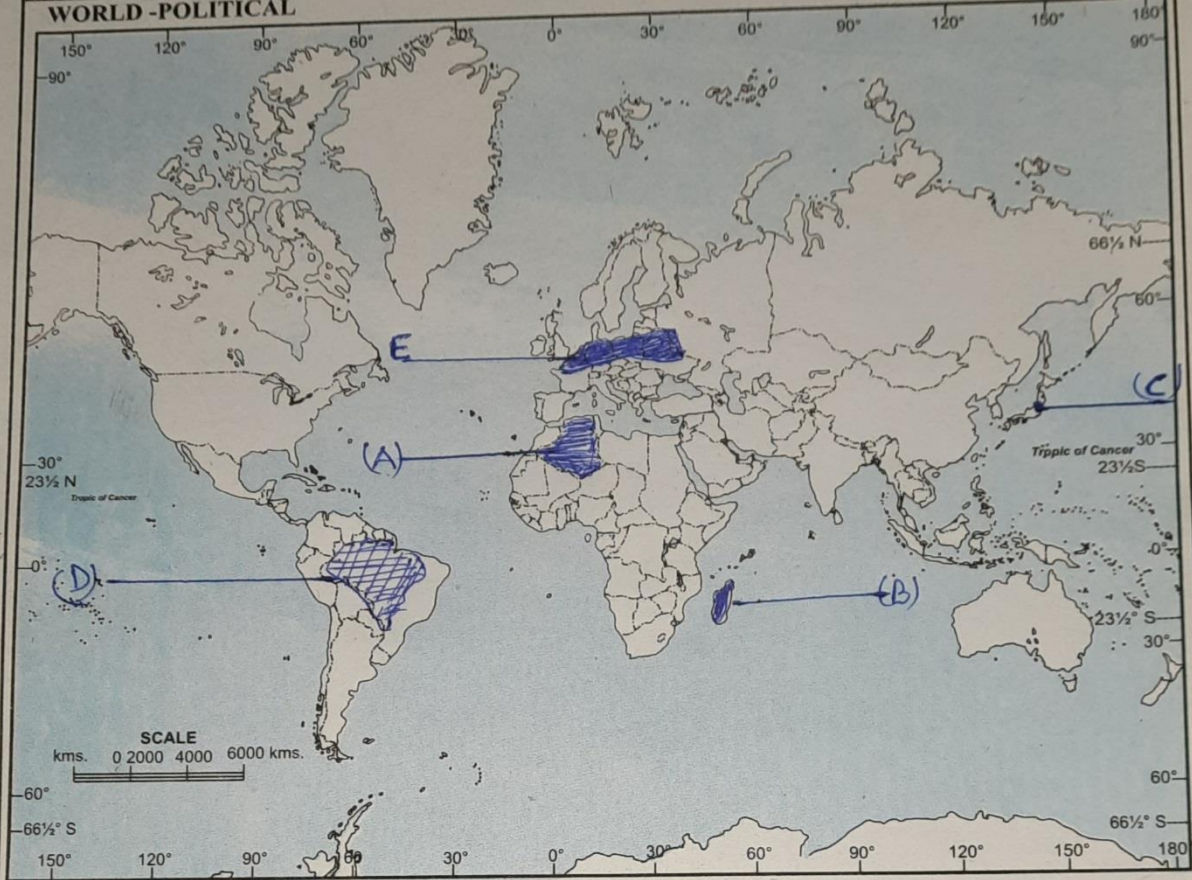


- 29 संसार के दिए गए राजनैतिक रेखा मानचित्र में पांच भौगोलिक लक्षणों को A, B, C, D, E से दर्शाया गया है। इनकी पहचान निम्न लिखित जानकारी की मदद से कीजिए और उनके सही नाम उनके सामने खींची गई रेखाओं पर लिखिए।
- (A) अफ्रीका महाद्वीप का क्षेत्रफल में सबसे बड़ा देश
  - (B) एक चलवासी पशुचारण का क्षेत्र
  - (C) जापान का एक मेगा सिटी
  - (D) निर्वहन संग्रहण का एक क्षेत्र
  - (E) मिश्रित कृषि का एक क्षेत्र

1x5

WORLD - POLITICAL

संसार राजनैतिक





--	--	--